

Демонстрационный вариант  
Математика (итоговая работа)


1 класс

Продолжительность работы: 45 минут

Прочитай и выполни задания.

В работе 14 заданий. Постарайся выполнить все задания. Желаем тебе успеха!

1 Сколько кругов на рисунке?





Ответ: \_\_\_\_\_ .

В ответ запиши только число.

2 Мише нужно раскрасить 12 птичек. Он раскрасил 5 птичек.

Сколько птичек осталось раскрасить?



Ответ: осталось раскрасить \_\_\_\_\_ птичек.

В ответ запиши только число.

3

У Маши было 4 баночки с красками. Папа купил ей ещё 8 баночек краски (в коробке). Сколько всего баночек с красками стало у Маши?



Выбери верный ответ.

1) 14

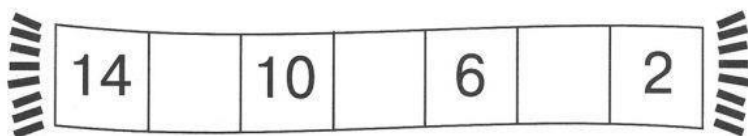
2) 12

3) 11

4) 4

4

На математическом шарфике числа записаны по определённому правилу. Определи это правило и запиши пропущенные числа в ответ **без** запятых.



Ответ: \_\_\_\_\_.

5

Утром Коля прочитал 5 страниц книги, а вечером на 4 страницы больше. Сколько страниц книги Коля прочитал вечером?

Ответ: \_\_\_\_\_ страниц.

В ответ запиши только число.

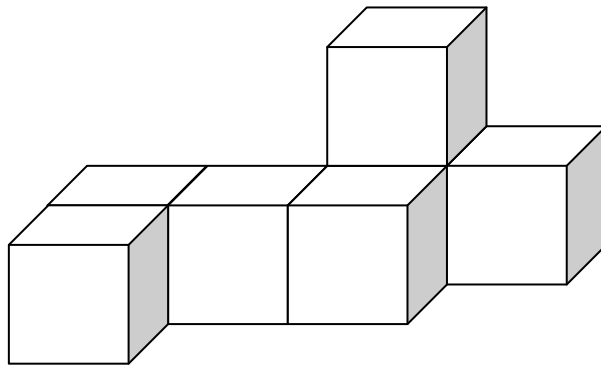
- 6 Оля решила купить в магазине ластик за 11 рублей. У неё есть такие монеты:



Какую сдачу получит девочка? Выбери верный ответ.

- 1) 15 рублей
- 2) 10 рублей
- 3) 5 рублей
- 4) 4 рубля

- 7 Таня сложила из одинаковых кубиков такую фигуру.

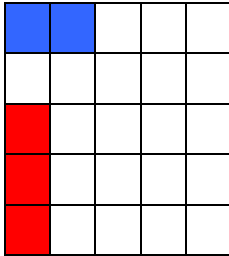


Сколько кубиков она использовала? Выбери верный ответ.

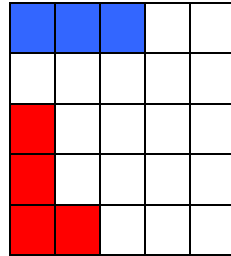
- 1) 6                      2) 7                      3) 8                      4) 9

8

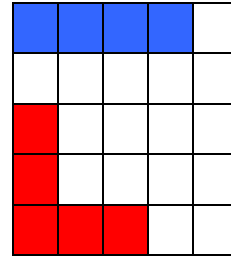
Митя расставляет синие и красные фишки по определённому правилу. Определи это правило и запиши в ответ количество синих и количество красных фишек, которые он расставит на четвёртом поле?



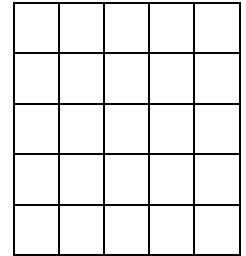
Поле 1



Поле 2



Поле 3



Поле 4

Ответ: \_\_\_\_\_ синих и \_\_\_\_\_ красных фишек.

В ответ запиши только числа.

9

Рассмотри таблицу.

Дети собирали в лесу грибы: подберёзовики и рыжики. Сколько рыжиков собрал Ваня?

| Имя  | Подберёзовики  | Рыжики  |
|------|--|---|
| Женя |   |   |
| Ваня |  |  |

Ответ: Ваня собрал \_\_\_\_\_ рыжиков.

В ответ запиши только число.


10

Ученики записали величины 15 см, 2 дм, 2 см в порядке убывания и получили разные ответы. Выбери верный ответ.

- 1) 15 см, 2 дм, 2 см
- 2) 2 дм, 2 см, 15 см
- 3) 15 см, 2 см, 2 дм
- 4) 2 дм, 15 см, 2 см

11) Рассмотрни рисунок.

Для ответа на какие вопросы к рисунку нужно выполнить действие вычитание?



Выбери все верные ответы на задание.

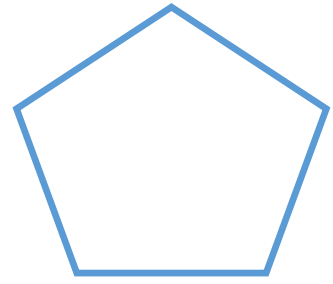


- 1) Сколько всего игрушек?
- 2) На сколько больше машинок, чем самолётиков?
- 3) Сколько станет самолётиков, если к ним добавить ещё один самолётик?
- 4) На сколько меньше самолётиков, чем машинок?

12) На столе лежали три яблока, четыре шоколадных пряника, 5 спелых груш и 7 конфет. Сколько всего фруктов лежало на столе?

Ответ: \_\_\_\_\_ фруктов.

В ответ запиши только число.

Рассмотри геометрические фигуры.



Укажи, верно ли, что...

13.1 у всех фигур есть углы?

1) да 2) нет

13.2 все фигуры – четырёхугольники?

1) да 2) нет

13.3 овал расположен справа от четырёхугольника?

1) да 2) нет

Рассмотри таблицу.

В таблице записано, какие кружки посещают первоклассники.

| Название кружка | Мальчики (человек) | Девочки (человек) |
|-----------------|--------------------|-------------------|
| Музыка          | 3                  | 3                 |
| Театр           | 2                  | 5                 |
| Математика      | 7                  | 4                 |
| Шахматы         | 6                  | –                 |

Ответ с помощью таблицы на вопросы.

14.1 Сколько всего мальчиков и девочек посещают кружок «Математика»?

Ответ: \_\_\_\_\_ .

В ответ запиши только число.

14.2 Какой кружок посещает одинаковое количество мальчиков и девочек? Выбери верный ответ.

- 1) Музыка
- 2) Театр
- 3) Математика
- 4) Шахматы

14.3 На сколько больше девочек посещает кружок «Театр», чем мальчиков?

Ответ: на \_\_\_\_\_ чел.

В ответ запиши только число.



### Ответы на задания

|    |                     |   |
|----|---------------------|---|
| 1  | 5                   | 1 |
| 2  | 7                   | 1 |
| 3  | 2                   | 1 |
| 4  | 12, 8, 4            | 1 |
| 5  | 9 страниц.          | 1 |
| 6  | 4                   | 1 |
| 7  | 2                   | 1 |
| 8  | 5 синих 6 красных   | 1 |
| 9  | 7                   | 1 |
| 10 | 4                   | 1 |
| 11 | 24<или>42           | 2 |
| 12 | 8                   | 2 |
| 13 | нет, нет, да        | 2 |
| 14 | 11, музыка<или>1, 3 | 2 |